

ENSEIGNANTES : Rym harzallah Neila Achour	GESTION Devoir de Contrôle N°1 : sujet B	SECTION : ÉCONOMIE ET SERVICES.
		NIVEAU : 2 ^{EME} ANNEE
ANNEE SCOLAIRE : 2013/2014		DUREE : 01 heure

<i>Nom Prénom :</i> <i>Classe</i>	<i>Note :</i>
----------------------------------------------	---------------

EXERCICE N°1 :

Au début de la première journée du mois de ramadan, Mr SALLEM le responsable du magasin « MINI PRIX » constate qu'il y a dans la caisse 770 D.

Au cours de cette journée, il a réalisé les opérations suivantes :

- **Encaissement** de 880 D suite à une vente de marchandises ;
- Achat de Marchandises (Produits alimentaire) pour 650 D réglé par **chèque bancaire** ;
- Règlement de la facture d'électricité **en espèces** : 250 D ;
- Paiement salaire des vendeuses **en espèces** 550 D ;

Travail à faire :

1) Calculez le montant **des recettes à la caisse?**

.....

.....

2) Calculez le montant **des dépenses de la caisse?**

.....

.....

3) Quel est le montant existant **dans la caisse à la fin de la journée ?**

.....

.....

4) Dite si Mr SALLEM peut payer en espèces à la fin de cette journée un stock d'œufs valant 150 D, justifiez

.....

.....

5) indiquez l'outil utilisé par le responsable SALLEM pour prendre cette décision

.....

EXERCICE 2 :

Dossier 1 : définition de la gestion

Mme « AMIRA » possède un diplôme en Coiffure, après 3 ans d'expérience, elle a décidé d'ouvrir son propre salon, pour cela elle a apporté 10 000 D et a emprunté de la banque STB 40 000D.

Pour réaliser son projet elle a acheté un matériel valant 38 000 D, des produits pour 11 000 D elle a recruté Mlle Dorra pour l'aider dans son travail.

Travail à faire :

- 1- Précisez la nature des ressources utilisées par Mme AMIRA en remplissant le tableau suivant :

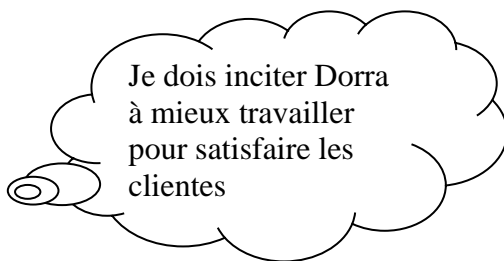
Ressources	Ressources	Ressources

- 2- Comment Mme AMIRA doit utiliser ses ressources

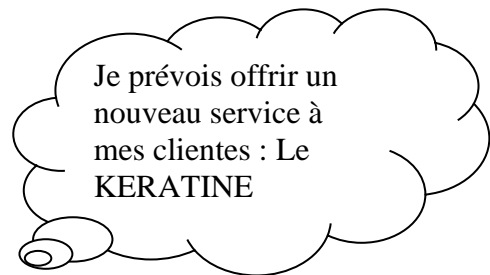
.....
.....

3-

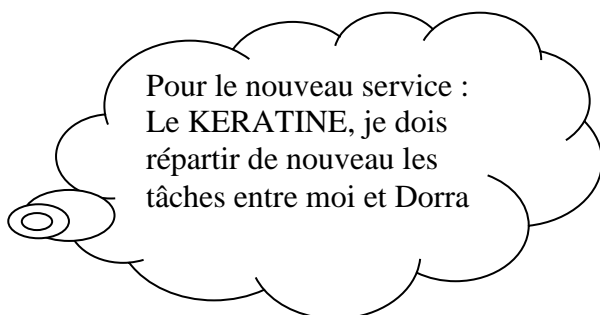
Mme AMIRA est une bonne gestionnaire elle applique la gestion tout au long de son travail :



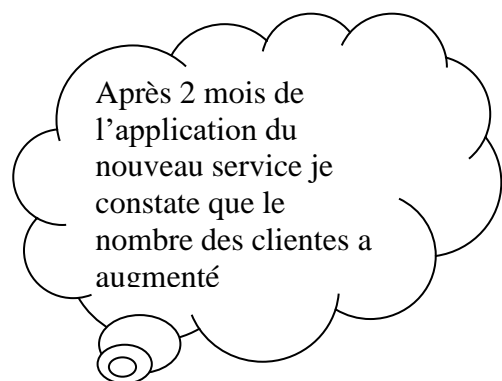
.....



.....



.....



.....

- a) Attribuez à chaque schéma le concept fondamental de la gestion
b) Définir la notion de gestion

.....
.....

Dossier 2 : Les outils de la gestion :

Pour fixer le prix du nouveau service « mise de faux ongles », Mme AMIRA pose la question suivante à 50 clientes « considérez vous ce prix trop cher ? », les réponses collectées sont présentées dans le tableau suivant :

Prix en Dinars	Réponses		Le nombre des acheteurs
	Nombres	Nombres cumulés	
150	0		
140	5		
130	13		
120	17		
110	15		

- 1- Complétez le tableau ci-dessus et Aidez Mme AMIRA à fixer le prix de son nouveau service sachant qu'elle espère avoir 15 clientes.
- 2- Indiquez l'outil utilisé par Mme AMIRA pour fixer le prix de vente

.....

Dossier 3 : Rôle du gestionnaire :

Pour atteindre ses objectifs Mme AMIRA , en tant que gestionnaire joue plusieurs rôles , complétez ce tableau :

Taches	Rôles du gestionnaire
Informez les clientes sur le nouveau service et son prix	
Améliorer les conditions de travail et encourager Dorra à mieux travailler	
Résoudre les problèmes et prendre les actions nécessaires	

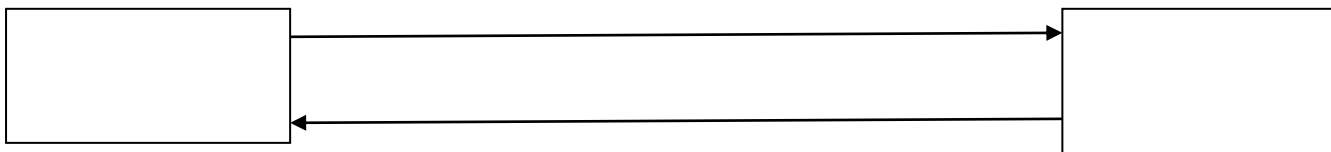
Dossier 4 : Analyse comptable des opérations :

Le 15 novembre Mme AMIRA a réalisé les opérations suivantes :

- **Opération 1** : Achat de brosses et séchoirs par chèque bancaire pour 200D du fournisseur « La beauté »
- **Opération 2** : Encaissement de la journée en espèces 280D de ses clientes
- **Opération 3** : Paiement salaire de Dorra 250 D en espèces
- **Opération 4** : Paiement facture d'électricité (STEG) en espèce 150 D, pièce caisse N°5

Travail à faire :

- 1- Schématisez et analysez les flux économiques liés à **l'opération N°4**



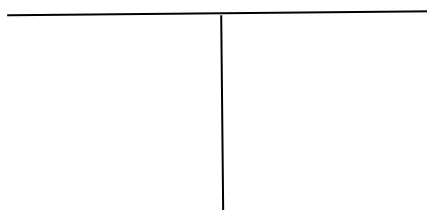
*
*
*

- 2- Analysez toutes les opérations dans le tableau suivant :

	Emplois	Montants	Ressources	Montants
Opération N°1				
Opération N°2				
Opération N°3				
Opération N°4				
Totaux				

Que constatez-vous :

- 3- Sachant que Mme AMIRA possède au début de la journée du 15 novembre 450 D, établir le **compte en T « caisse »** et déterminez le solde à la fin de cette journée



- 4- Enregistrez **l'opération 4 au journal de Mme AMIRA**